

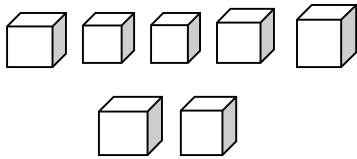
Fletë pune nga matematika

Emri dhe mbiemri _____ Klasa- II Data _____

1. Formo grupe me nga tre anëtarë.

_____ grupe me nga 3

_____ do të mbeten

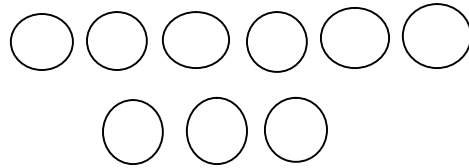


(3)

2. Formo grupe me nga 2 anëtarë


_____ grupe me nga 2

_____ do të mbeten



(3)

3.




(3)

_____ grupe me nga _____ = _____

$$\square \cdot \square = \square$$

4.



(3)

_____ grupe me nga _____ = _____

$$\square \cdot \square = \square$$

5. a) 1 rresht me nga 2 është _____ 1 herë 2 = _____ $1 \cdot 2 =$ _____ (2)

b) 2 rreshta me nga 2 janë _____ 2 herë 2 = _____ $2 \cdot 2 =$ _____ (2)

c) 3 rreshta me nga 2 janë _____ 3 herë 2 = _____ $3 \cdot 2 =$ _____ (2)

d) 4 rreshta me nga 2 janë _____ 4 herë 2 = _____ $4 \cdot 2 =$ _____ (2)

e) 5 rreshta me nga 2 janë _____ 5 herë 2 = _____ $5 \cdot 2 =$ _____ (2)

6. a) $10 \cdot 2 =$ b) $7 \cdot 2 =$ c) $8 \cdot 2 =$ (3)

Gjithsej pike 25 ,te fituara _____ Arsimtari _____ Prindi _____