


Fletë pune - Mbledhja e grupeve

Rretho grupet. Plotëso barazitë



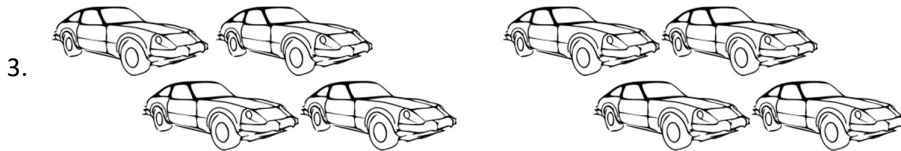
_____ grupe me nga _____ = _____

_____ + _____ = _____




_____ grupe me nga _____ = _____

_____ + _____ + _____ + _____ + _____ + _____ = _____



_____ grupe me nga _____ = _____

_____ + _____ + _____ + _____ = _____



_____ grupe me nga _____ = _____

_____ + _____ + _____ = _____

Fletë pune . Sa do të mbeten


Shkruaj sa grupe do të formohen dhe sa anëtarë do të mbeten

1. Formo grupe me nga tre antarë




___ grupe me nga 3 . ___ do të mbeten .

2. Formo grupe me nga pesë antarë.




___ grupe me nga 5 . ___ do të mbeten .

3. Formo grupe me nga katër antarë.



___ grupe me nga 4 . ___ do të mbeten .

4. Formo grupe me nga dy antarë.



___ grupe me nga 2 . ___ do të mbeten .